

Prénom :

Date :



Géométrie

ÉVALUATION

Les solides – lv1


Si tu as eu des difficultés lors de ton évaluation, voici un lien pour t'aider à t'améliorer dans cette matière.



1

Colorie que les solides.

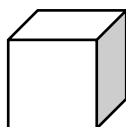
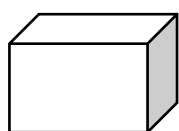
/3



2

Relie le solide à l'objet de la vie de la vie quotidienne qui lui ressemble.

/2



<https://supercroco.com>



Autoévaluation

Cette évaluation était selon moi :

