


Prénom :

Date :




Géométrie

ÉVALUATION

Les angles droits



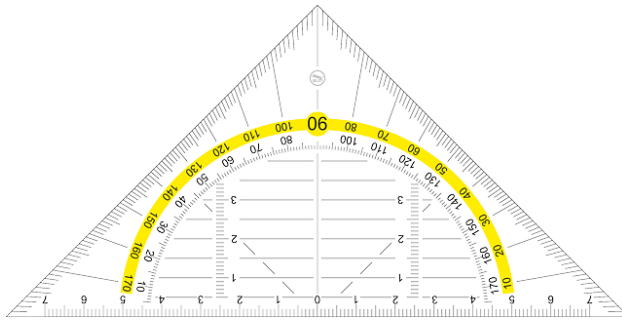
Si tu as eu des difficultés lors de ton évaluation, voici un lien pour t'aider à t'améliorer dans cette matière.



1

Entoure l'angle droit sur l'équerre.

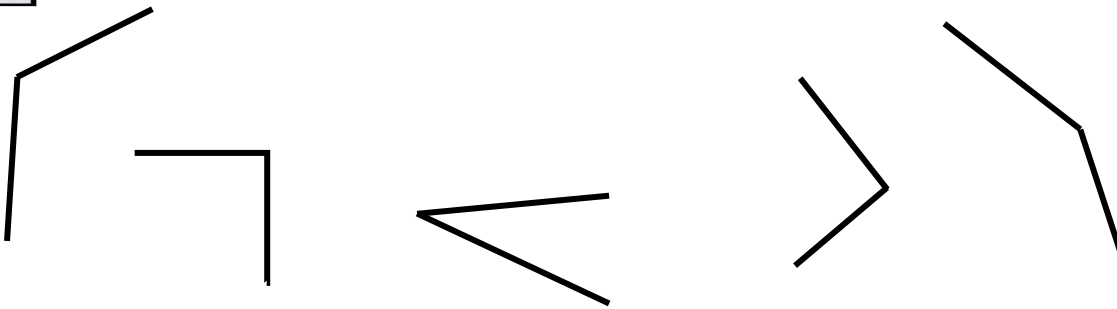
/1



2

Entoure les angles droits, utilise bien ton équerre !

/2





<https://supercroco.com>



3

Trouve les angles droits ci-dessous, et trace le signe **L** en rouge.

/3



Autoévaluation

Cette évaluation était selon moi :

