





Mesure la longueur à l'aide de l'étalon "rectangle gris".




7



Mesure la longueur à l'aide de l'étalon "rectangle gris".




10




Mesure la longueur à l'aide de l'étalon "rectangle gris".




8



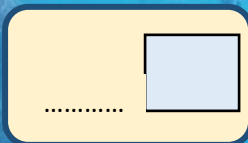
Mesure la longueur à l'aide de l'étalon "rectangle gris".



7




Mesure la longueur à l'aide de l'étalon "rectangle gris".



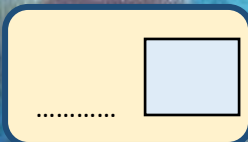
--	--	--	--	--	--	--	--	--	--	--	--	--	--	--	--	--	--	--	--

Mesure la longueur à l'aide de l'étalon "rectangle gris".




--	--	--	--	--	--	--	--	--	--	--	--	--	--	--	--	--	--	--	--

Mesure la longueur à l'aide de l'étalon "rectangle gris".



--	--	--	--	--	--	--	--	--	--	--	--	--	--	--	--	--	--	--	--

Mesure la longueur à l'aide de l'étalon "rectangle gris".



--	--	--	--	--	--	--	--	--	--	--	--	--	--	--	--	--	--	--	--




Mesure la longueur à l'aide de l'étalon "rectangle gris".

3




Mesure la longueur à l'aide de l'étalon "rectangle gris".

5




Mesure la longueur à l'aide de l'étalon "rectangle gris".

2



Mesure la longueur à l'aide de l'étalon "rectangle gris".

4






Mesure la longueur à l'aide de l'étalon "rectangle gris".

1





Mesure la longueur à l'aide de l'étalon "rectangle gris".

8




Mesure la longueur à l'aide de l'étalon "rectangle gris".

4



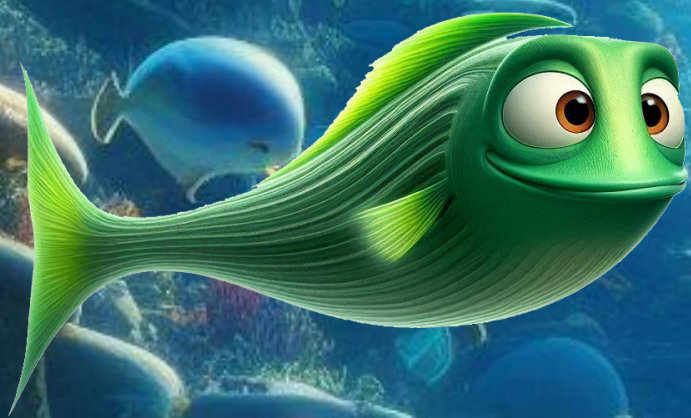
Mesure la longueur à l'aide de l'étalon "rectangle gris".

5






Mesure la longueur à l'aide de l'étalon "rectangle gris".




7



Mesure la longueur à l'aide de l'étalon "rectangle gris".



8



Mesure la longueur à l'aide de l'étalon "rectangle gris".




10



Mesure la longueur à l'aide de l'étalon "rectangle gris".



6







Mesure la longueur à l'aide de l'étalon "rectangle gris".

2




Mesure la longueur à l'aide de l'étalon "rectangle gris".

4





Mesure la longueur à l'aide de l'étalon "rectangle gris".

7




Mesure la longueur à l'aide de l'étalon "rectangle gris".

9






Mesure la longueur à l'aide de l'étalon "rectangle gris".



6

--	--	--	--	--	--	--	--	--	--

Mesure la longueur à l'aide de l'étalon "rectangle gris".



5

--	--	--	--	--	--	--	--	--	--


Mesure la longueur à l'aide de l'étalon "rectangle gris".



3

--	--	--	--	--	--	--	--	--	--

Mesure la longueur à l'aide de l'étalon "rectangle gris".



4

--	--	--	--	--	--	--	--	--	--

