

Prénom :

Date :

Géométrie

EXERCICES

Les angles droits



Si tu as eu des difficultés lors de tes exercices, voici un lien pour t'aider à t'améliorer dans cette matière.







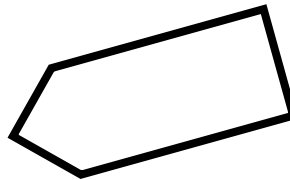

1

Trouve 15 angles droits dans ce dessin, et trace le signe **L** en rouge.



2

Trouve tous les angles droits des figures suivantes et trace le symbole **L**.



Autoévaluation

Ces exercices étaient selon moi :

