



Prénom :

Date :

Géométrie

Exercices

Les angles droits

Voici un lien pour t'améliorer
dans cette matière :



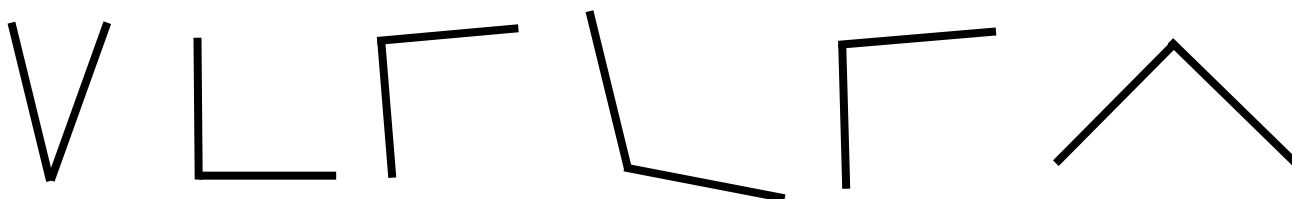
1

Observe l'angle qui s'ouvre de plus en plus et **colorie** en vert l'angle droit.



2

Colorie en vert les angles droits et en rouge ceux qui ne le sont pas.




3


Marque les angles droits avec le signe L.
Ecris, sous chaque forme, le nombre d'angles droits.




.....



.....



.....



.....

Autoévaluation

Ces exercices étaient selon moi :



SuperCroco.com