



Prénom : .....

Date : .....

Mesurer

Exercices

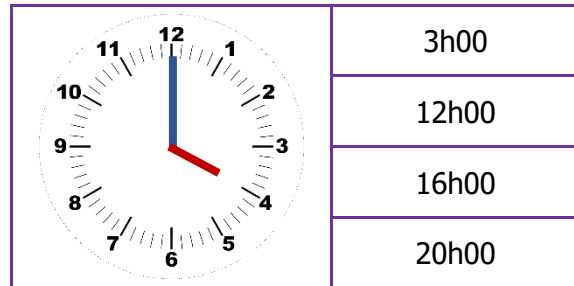
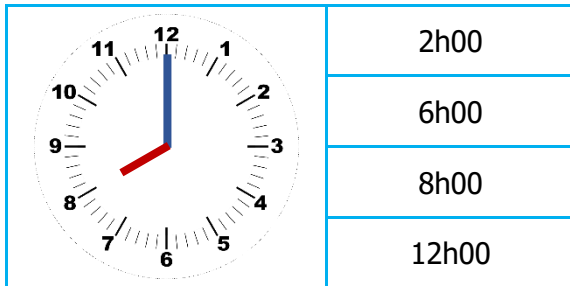
Lire l'heure sur une horloge

Voici des liens pour t'améliorer  
dans cette matière :







1

**Entoure** l'heure indiquée par l'horloge.



2

**Indique** sous les horloges l'heure du matin (☀️) et de l'après-midi (🌙).



3

**Complète** les phrases.

- Quand la petite aiguille montre **7**, le **matin**, il est ..... h.
- Quand la petite aiguille montre **4**, l'**après-midi**, il est ..... h.
- Quand la petite aiguille montre **2**, l'**après-midi**, il est ..... h.

Autoévaluation

Ces exercices étaient selon moi :



SuperCroco.com