



Prénom :

Date :

Mesurer

Évaluation

Les fractions – Demi, tiers et quart

/

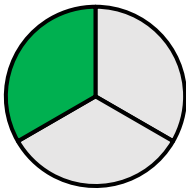
Voici des liens pour t'améliorer
dans cette matière :



/

1

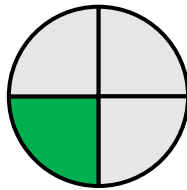
Relie chaque fraction à la figure qui lui correspond.



•

•

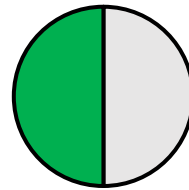
Un demi



•

•

Un quart



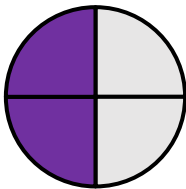
•

•

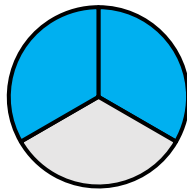
Un tiers

2


Coche la fraction qui correspond à la partie coloriée.



- ☐ deux demi
- ☐ deux quarts
- ☐ un tiers




- ☐ un tiers
- ☐ deux demis
- ☐ deux tiers




- ☐ deux demis
- ☐ un quart
- ☐ un tiers

3


Colorie la quantité demandée.



Trois quarts



un tiers



un demi



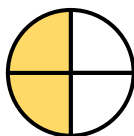
4

La partie coloriée correspond-elle à ce qui est écrit ?
Entoure OUI ou NON, pour chaque proposition.



un demi

OUI / NON



deux tiers

OUI / NON



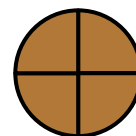
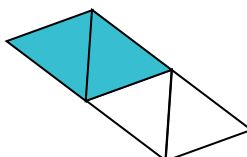

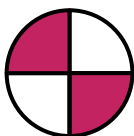
trois quarts

OUI / NON



5

Entoure toutes les figures qui représentent deux quarts.



6

Choisis la fraction correcte et écris-la.



Banque de mots : **Un demi** / **Un tiers** / **Un quart**

Quand une unité est partagée en 2 parts égales, chaque part est _____

Quand une unité est partagée en 4 parts égales, chaque part est _____

Autoévaluation

Cette évaluation était selon moi :

