



Prénom : .....

Date : .....

Géométrie

Évaluation

Symétrie - reconnaître et tracer des axes

/

Voici des liens pour t'améliorer  
dans cette matière :



1

1. **Coupe** le rectangle qui se trouve en annexe.
2. **Plie** le rectangle pour trouver deux axes de symétrie.
3. **Repasse** en rouge sur les axes de symétrie.
4. **Colle** la forme géométrique ci-dessous.



2


1. **Coupe** le triangle qui se trouve en annexe.
2. **Plie** le triangle pour trouver l'axe de symétrie.
3. **Repasse** en rouge sur l'axe de symétrie.
4. **Colle** la forme géométrique ci-dessous.






3

**Observe** les figures, Si tu vois un axe de symétrie, trace-le en **rouge**.




Cette figure a-t-elle **un axe de symétrie** ?

☐ OUI    ☐ NON



Cette figure a-t-elle **un axe de symétrie** ?


☐ OUI    ☐ NON



Autoévaluation



**Exercice 1**



**Exercice 2**

