

Matière :
Mathématiques





La proportionnalité

1. J'observe et je complète



Dans 1 boîte, il y a 2 crayons.



Boîtes	Nombre de crayons
 1 boîte	2 crayons
 2 boîtes	_____ crayons
 3 boîtes	_____ crayons
 4 boîtes	_____ crayons

2. Je dessine



Dessine ce qu'il faut.



1 sachet =
5 billes.
Dessine
2 sachets.



1 vase =
3 fleurs.
Dessine
4 vases.




1 assiette =
2 biscuits.
Dessine
3 assiettes.




3. Je calcule



- a)  1 boîte contient 2 crayons.
Combien de crayons dans 5 boîtes ?

Calcul : _____

Réponse : _____


- b)  1 bocal contient 5 bonbons.
Combien de bonbons dans 4 bocaux ?

Calcul : _____

Réponse : _____

4. Je résous



- 1)  Pour 1 lapin, il faut 2 carottes.
Combien faut-il de carottes pour 5 lapins ?



Calcul : _____

Réponse : _____


- 2) Pour 1 cadeau, il faut 3 nœuds.
Combien faut-il de nœuds pour 4 cadeaux ?



Calcul : _____

Réponse : _____

Autoévaluation

 Je trouve que
cette matière est



Très facile



Facile



Moyen



Difficile