



Prénom :



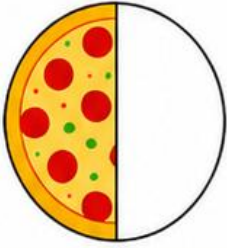
Date :

Matière :
Mathématiques

Les fractions dans des phrases.


Observe chaque image. Lis la phrase. Écris la bonne réponse : un demi ou un quart.

1



La partie colorée représente
.....
de la pizza.

2



Le carré colorié représente
.....
de la tablette de chocolat.

3



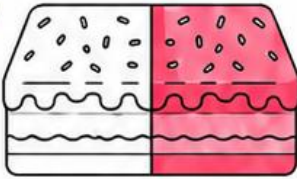
La partie rouge représente
.....
de la pomme.

4




La partie colorée représente
.....
du disque.

5




La partie colorée représente
.....
du gâteau.

6



La partie colorée représente
.....
de la bande.

7



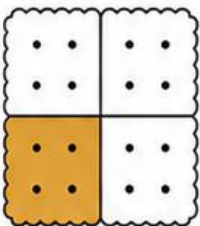
Le rond coloré représente
.....
des quatre ronds.

8




La partie colorée représente
.....
du carré.

9



La partie colorée représente
.....
du biscuit.

10



Les deux fraises colorées représentent
.....
des quatre fraises.

Autoévaluation

Je trouve que cette matière est



Très facile



Facile



Moyen



Difficile



supercroco.com