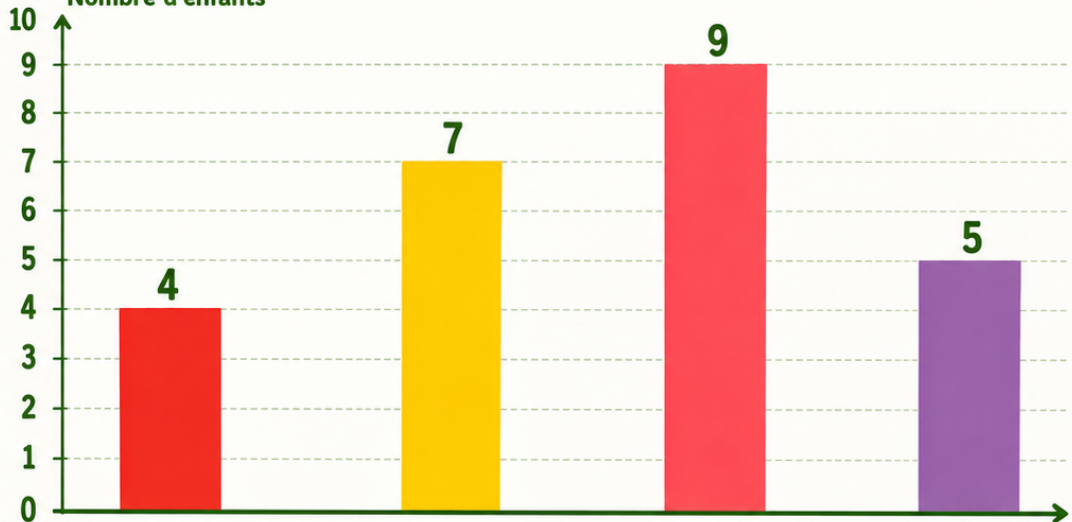


Les fruits préférés



Enquête dans la classe de SuperCroco

Nombre d'enfants



Pomme



Banane



Fraise



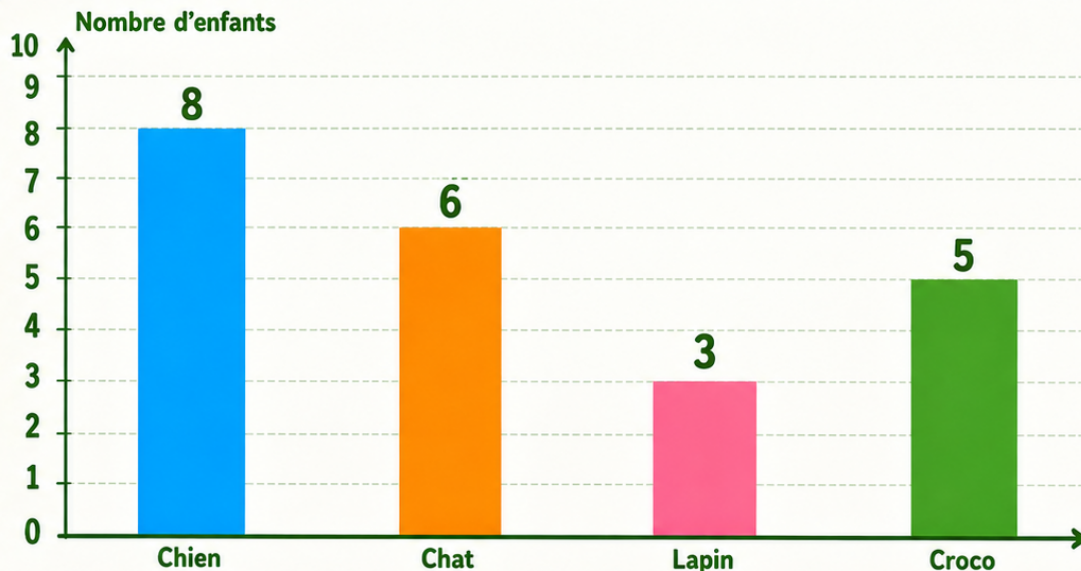
Raisin



Observe bien
le graphique.

Les animaux préférés

🔍 Enquête dans la classe de SuperCroco

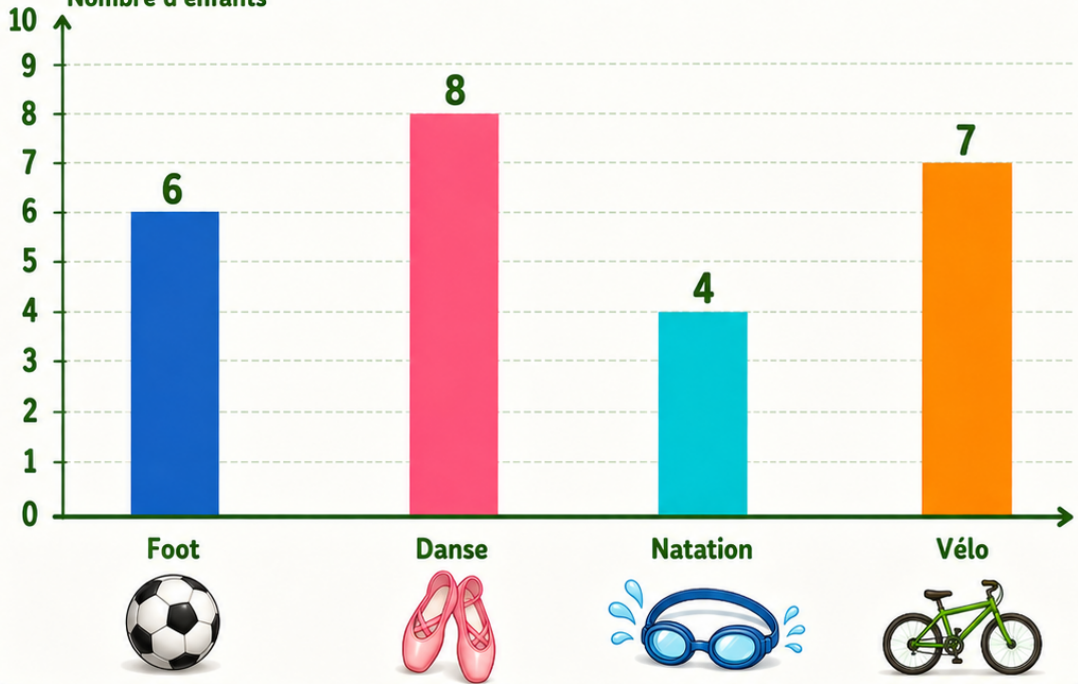


Observe bien
le graphique.

Les sports choisis

🔍 Enquête dans la classe de SuperCroco

Nombre d'enfants



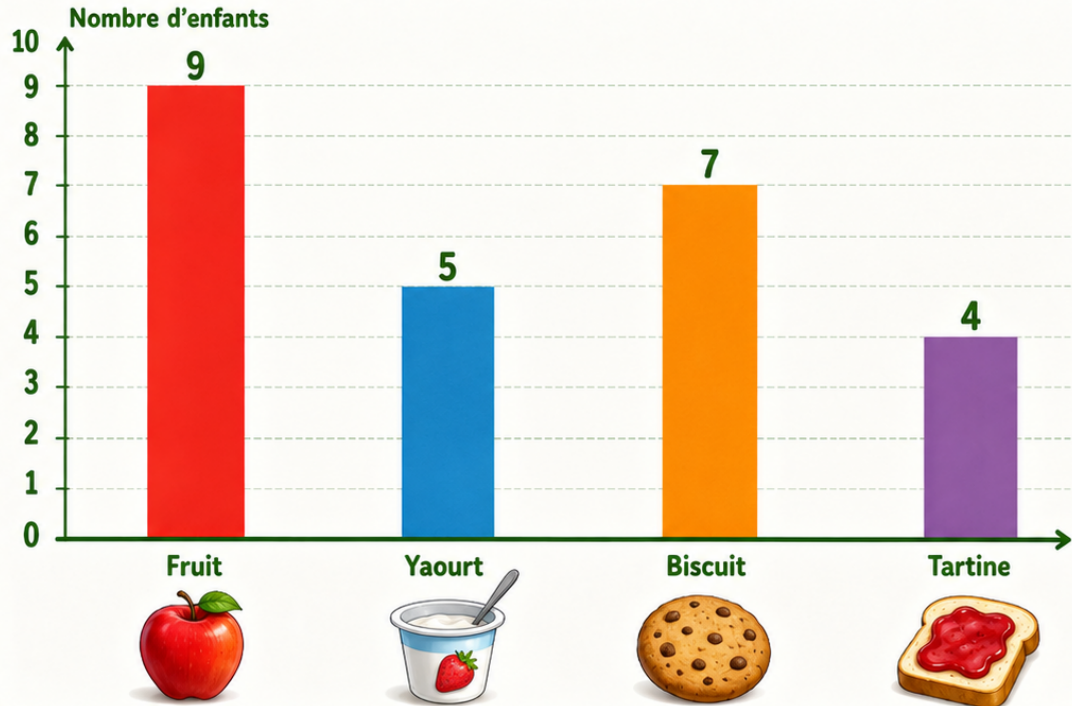
Observe bien
le graphique.



Les goûters choisis



Enquête dans la classe de SuperCroco

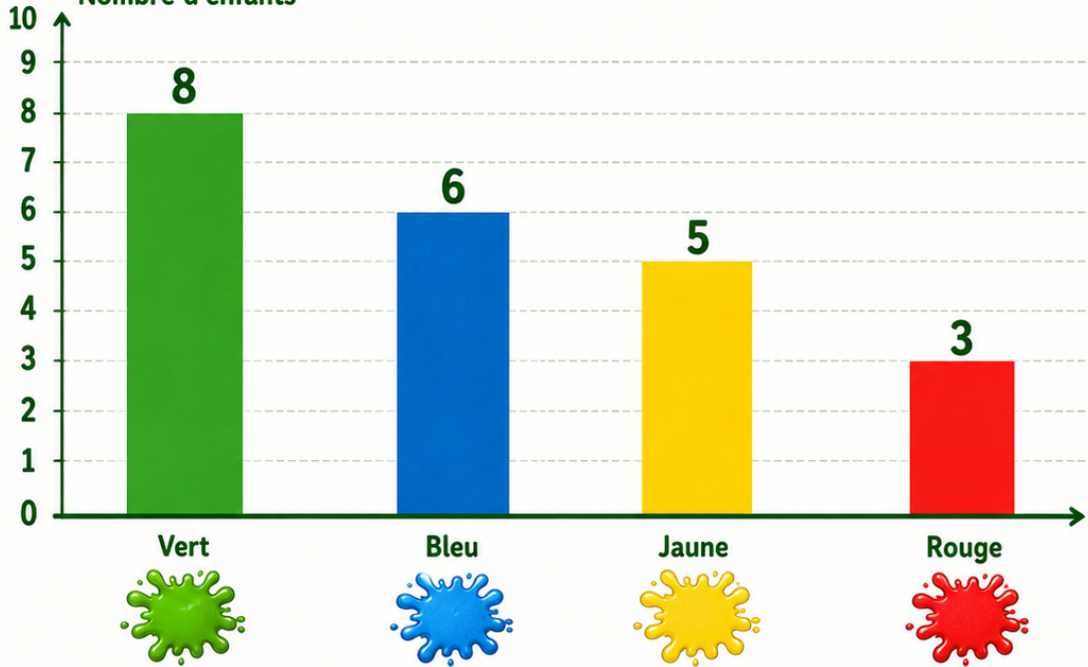


Observe bien
le graphique.

Les couleurs préférées

🔍 Enquête dans la classe de SuperCroco

Nombre d'enfants



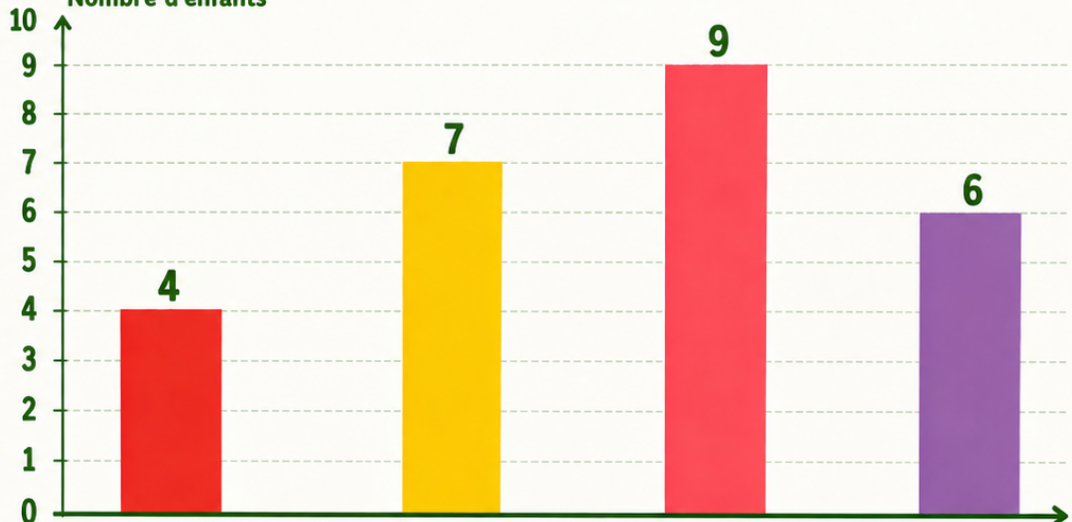
Observe bien
le graphique.

Les jeux de la cour



Enquête dans la classe de SuperCroco

Nombre d'enfants



Banc



Toboggan



Ballon



Sable



Observe bien
le graphique.

Cartes enquêtes

Planche 1



Carte
1



Quel fruit
est le plus choisi ?



Choisis le bon graphique.
Puis écris la lettre et ta réponse.

Carte
2



Combien d'enfants
choisissent la banane ?



Choisis le bon graphique.
Puis écris la lettre et ta réponse.

Carte
3



Combien d'enfants
choisissent la pomme et
le raisin au total ?



Choisis le bon graphique.
Puis écris la lettre et ta réponse.

Carte
4



Quel fruit
est choisi par 5 enfants ?



Choisis le bon graphique.
Puis écris la lettre et ta réponse.

Carte
5



Quel animal
est le moins choisi ?



Choisis le bon graphique.
Puis écris la lettre et ta réponse.

Carte
6



Combien d'enfants
choisissent le chien ?



Choisis le bon graphique.
Puis écris la lettre et ta réponse.

Carte
7



Combien d'enfants
choisissent le chat et
le lapin au total ?



Choisis le bon graphique.
Puis écris la lettre et ta réponse.

Carte
8



Quel animal
est choisi par 5 enfants ?



Choisis le bon graphique.
Puis écris la lettre et ta réponse.



Observe, réfléchis et deviens un enquêteur SuperCroco !

Carte 9



Quel sport est le plus choisi ?

Choisis le bon graphique.
Puis écris la lettre et ta réponse.

Carte 10



Combien d'enfants choisissent le vélo ?

Choisis le bon graphique.
Puis écris la lettre et ta réponse.

Carte 11



Combien d'enfants choisissent la natation et le foot au total ?

Choisis le bon graphique.
Puis écris la lettre et ta réponse.

Carte 12



Quel sport est choisi par 4 enfants ?

Choisis le bon graphique.
Puis écris la lettre et ta réponse.

Carte 13



Quel goûter est le plus choisi ?

Choisis le bon graphique.
Puis écris la lettre et ta réponse.

Carte 14



Combien d'enfants choisissent le biscuit ?

Choisis le bon graphique.
Puis écris la lettre et ta réponse.

Carte 15



Combien d'enfants choisissent la tartine et le yaourt au total ?

Choisis le bon graphique.
Puis écris la lettre et ta réponse.

Carte 16



Quel goûter est choisi par 5 enfants ?

Choisis le bon graphique.
Puis écris la lettre et ta réponse.

Cartes enquêtes

Planche 3

P2
CE1

Carte 17



Quelle couleur est la moins choisie ?

Choisis le bon graphique.
Puis écris la lettre et ta réponse.

Carte 18



Combien d'enfants choisissent le vert ?

Choisis le bon graphique.
Puis écris la lettre et ta réponse.

Carte 19



Combien d'enfants choisissent le bleu et le jaune au total ?

Choisis le bon graphique.
Puis écris la lettre et ta réponse.

Carte 20



Quelle couleur est choisie par 3 enfants ?

Choisis le bon graphique.
Puis écris la lettre et ta réponse.

Carte 21



Quel jeu de la cour est le plus choisi ?

Choisis le bon graphique.
Puis écris la lettre et ta réponse.

Carte 22



Combien d'enfants choisissent le toboggan ?

Choisis le bon graphique.
Puis écris la lettre et ta réponse.

Carte 23



Combien d'enfants choisissent le banc et le sable au total ?

Choisis le bon graphique.
Puis écris la lettre et ta réponse.

Carte 24



Quel jeu de la cour est choisi par 4 enfants ?

Choisis le bon graphique.
Puis écris la lettre et ta réponse.

Feuille de réponse

P2
CE1

Jeu d'enquête - Graphiques en bâtonnets

Nom : Prénom :

Classe :



Lis une carte. Trouve le bon graphique.
Écris la lettre du graphique et ta réponse.

Carte	Graphique	Ma réponse
1.		
2.		
3.		
4.		
5.		
6.		
7.		
8.		
9.		
10.		
11.		
12.		
13.		
14.		
15.		
16.		
17.		
18.		
19.		
20.		
21.		
22.		
23.		
24.		

Autoévaluation



Je trouve que
cette matière est



Très facile



Facile



Moyen



Difficile

supercroco.com

Feuille de réponse

P2
CE1

Jeu d'enquête - Graphiques en bâtonnets

Nom : Prénom :

Classe :



Lis une carte. Trouve le bon graphique.
Écris la lettre du graphique et ta réponse.

CORRECTIF

Carte	Graphique	Ma réponse
1.	A	La fraise.
2.	A	7 enfants.
3.	A	9 enfants.
4.	A	Le raisin.
5.	B	Le lapin.
6.	B	8 enfants.
7.	B	9 enfants.
8.	B	Le croco.
9.	C	La danse.
10.	C	7 enfants.
11.	C	10 enfants.
12.	C	La natation.
13.	D	Le fruit.
14.	D	7 enfants.
15.	D	9 enfants.
16.	D	Le yaourt.
17.	E	Le rouge.
18.	E	8 enfants.
19.	E	11 enfants.
20.	E	Le rouge.
21.	F	Le ballon.
22.	F	7 enfants.
23.	F	10 enfants.
24.	F	Le banc.

Réponses attendues

Autoévaluation



Je trouve que
cette matière est



Très facile



Facile



Moyen



Difficile

supercroco.com