



Prénom : .....




Date : .....

Mathématiques

# Dénombrer jusqu'à 20

**1** Compte les objets. Écris le nombre.



**2** Compte par 2.

Entoure ou relie les objets par 2, puis écris le total.




Total : \_\_\_\_\_




Total : \_\_\_\_\_

**3** Fais des paquets de 5.

Compte ensuite toute la collection.



Total : \_\_\_\_\_



Total : \_\_\_\_\_

**4** Complète les chemins de nombres.



Autoévaluation

Cette matière est :



SuperCroco.com